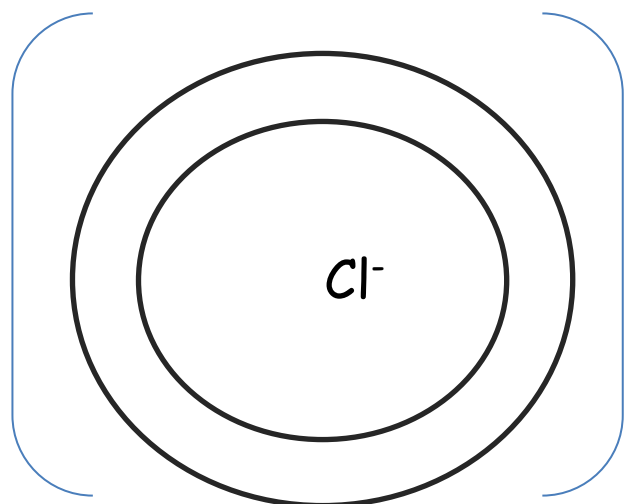
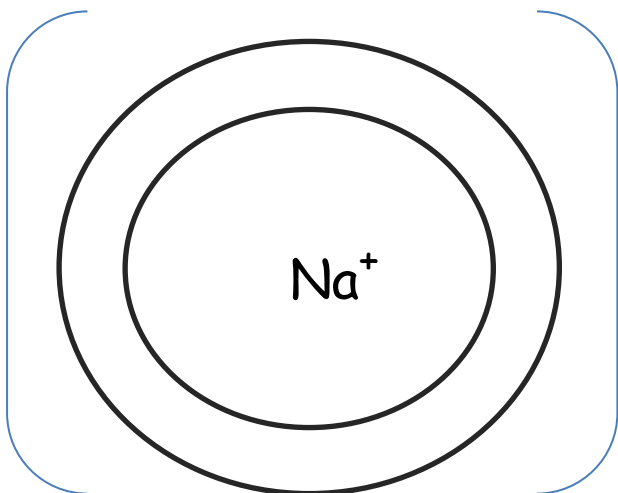
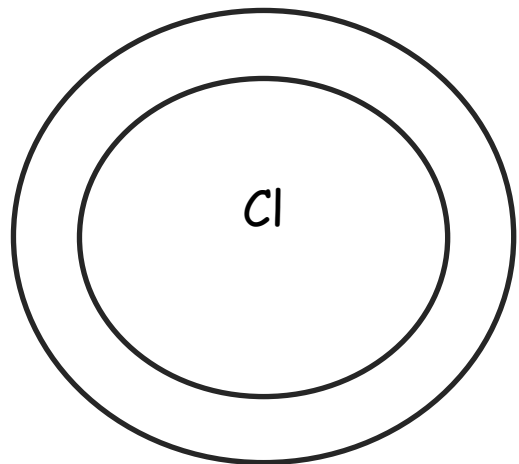
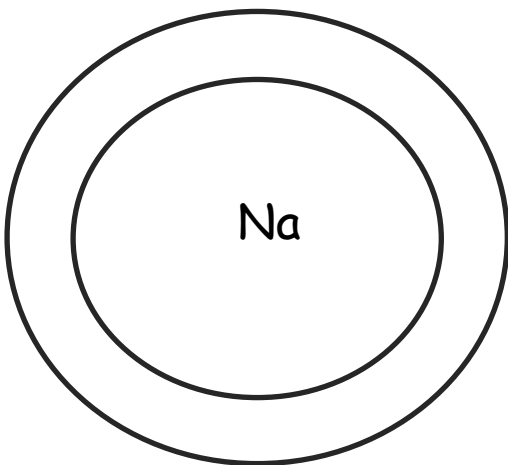


Работен лист – Јонска врска

- 1) Запиши ја електронската конфигурација за секој од атомите.
- 2) Со стрелка покажи како електроните се оддаваат.
- 3) Запиши ја електронската конфигурација на добиените јони и нивниот полнеж надвор од заградите

NaCl



- 1) Запиши ја електронската конфигурација за секој од атомите.
- 2) Со стрелка покажи како електроните се оддаваат.
- 3) Запиши ја електронската конфигурација на добиените јони и нивниот полнеж надвор од заградите

MgO

